

1.- Realiza las siguientes sumas

$$\begin{array}{r} 4 \\ + 3 \\ \hline \end{array}$$

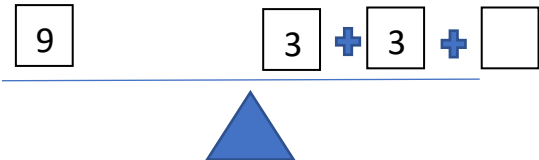
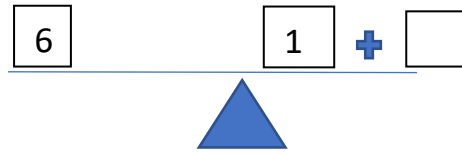
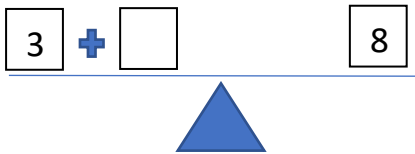
$$\begin{array}{r} 2 \\ + 5 \\ \hline \end{array}$$

$$\begin{array}{r} 6 \\ + 4 \\ \hline \end{array}$$


$$\begin{array}{r} 8 \\ + 0 \\ \hline \end{array}$$

$$\begin{array}{r} 9 \\ + 4 \\ \hline \end{array}$$

2.- Escribe los números en los cuadros en blanco para equilibrar la balanza.





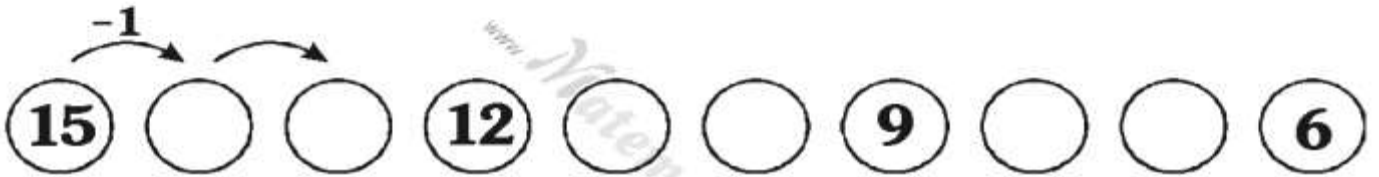

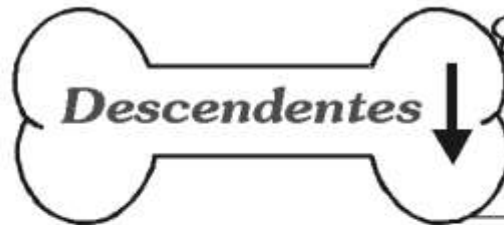

3.- Colorea 2 decenas



4.- Escribe el anterior de los siguientes números: 9, 14, 7, 10, 11.

5.- Escribe el posterior de los siguientes números: 2, 17, 5, 8, 16.

## SERIES NUMÉRICAS



7. Escribe el número anterior y posterior.

	7	
--	---	--

	3	
--	---	--

	8	
--	---	--

	5	
--	---	--

	11	
--	----	--

	2	
--	---	--

	6	
--	---	--

	4	
--	---	--

	9	
--	---	--

	14	
--	----	--

	10	
--	----	--

	16	
--	----	--

	12	
--	----	--

	17	
--	----	--

	13	
--	----	--

	18	
--	----	--

	20	
--	----	--

	19	
--	----	--

	15	
--	----	--

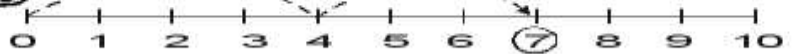
8.- Sumamos en la recta numérica.



Observa con cuidado los saltitos del conejo y luego traza el recorrido.

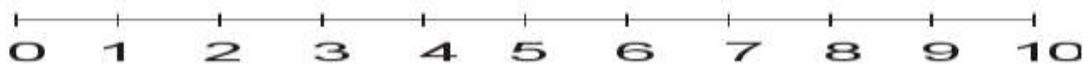


$4 + 3 = \boxed{7}$

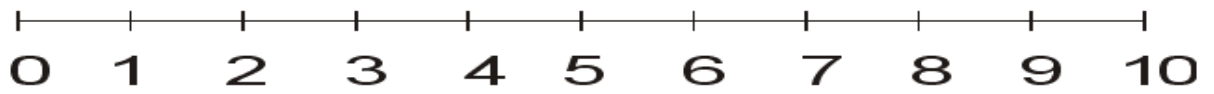


I. Suma y completa:

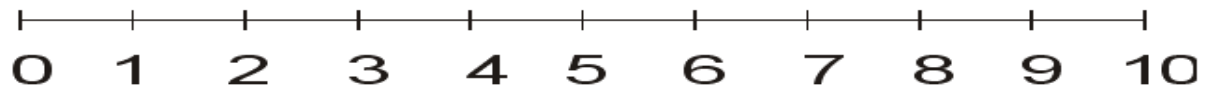
\*  $3 + 2 = \boxed{\phantom{00}}$



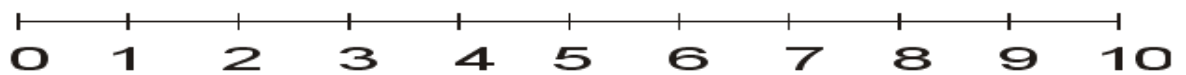
\*  $5 + 3 = \square$



\*  $6 + 3 = \square$



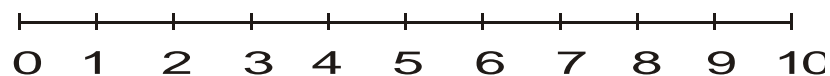
\*  $7 + 2 = \square$



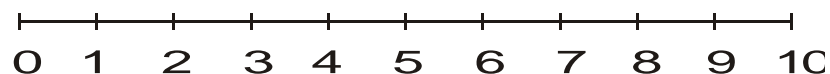
# Vamos a divertirnos

9.- Resuelve con atención:

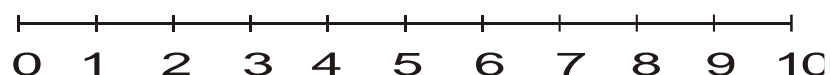
●  $3 + 2 = \square$



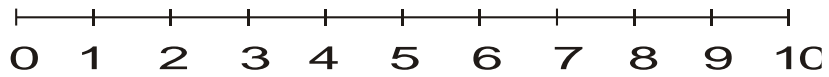
●  $3 + 6 = \square$



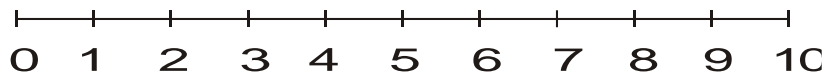
●  $5 + 4 = \square$



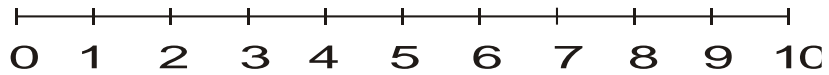
●  $2 + 7 = \square$



●  $1 + 5 = \square$

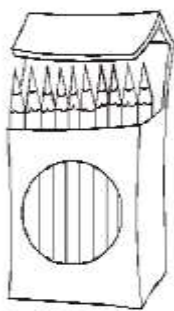


●  $4 + 3 = \square$

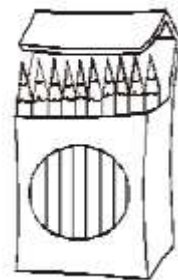


**10.-** Luego de contar, coloca las decenas y unidades en el tablero posicional.

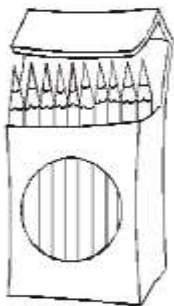
D	U



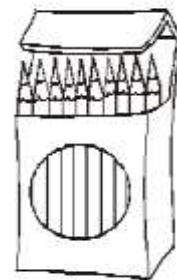
D	U

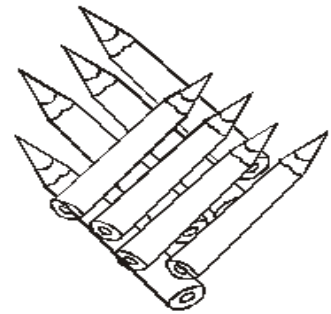
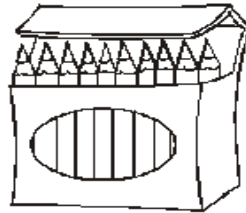
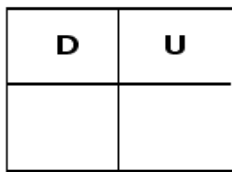
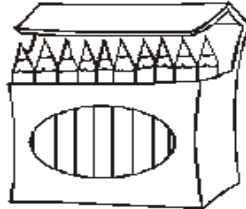
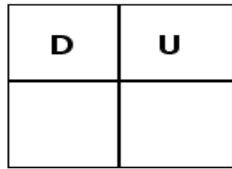
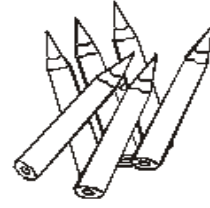
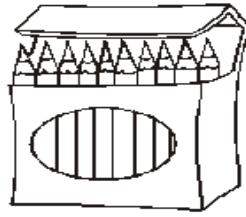
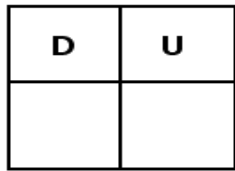


D	U


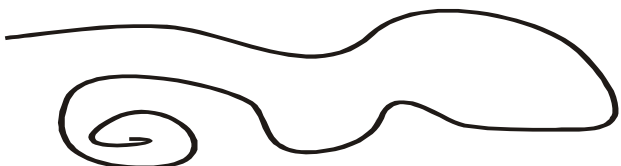
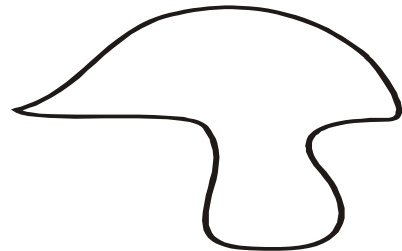



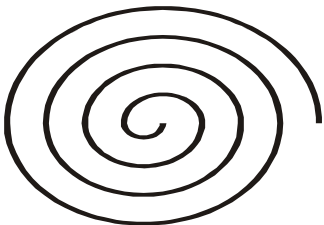


D	U

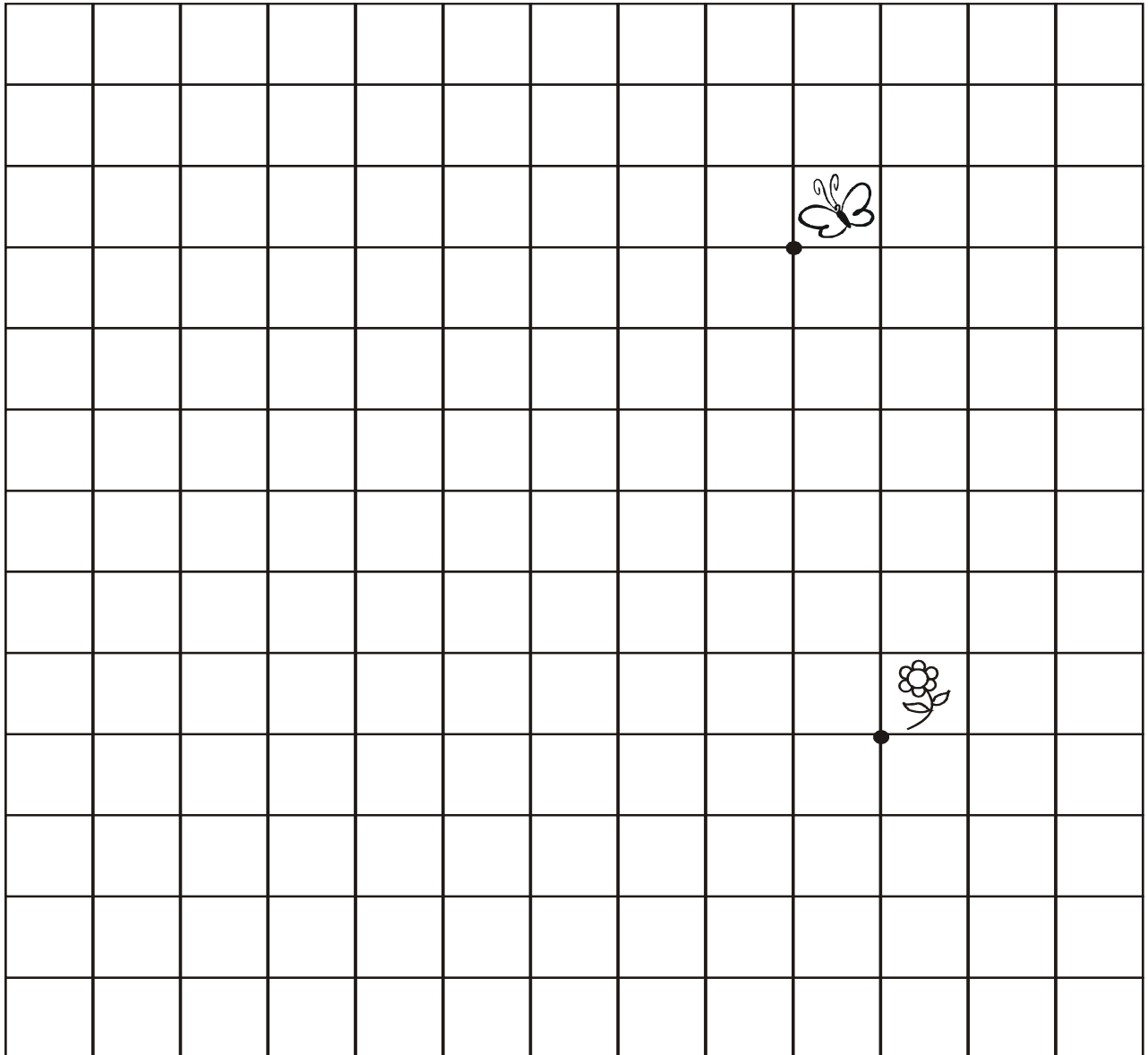





11. Rodea en un círculo de verde las líneas abiertas y de morado, las líneas cerradas.



12. ¡Sigue el camino! . . . Utiliza las flechas para que la mariposa llegue a la flor.



PROBLEMAS

1.- Luis tiene 5 bananas. Compra 3 bananas más, ¿cuántas bananas tiene en total?

**2.- Hay 8 mariposas en una flor, pero se van 4, ¿cuántas mariposas quedan?**

**3.- En el día de mi cumpleaños me traen una primera caja con 5 libros, una segunda caja con 3 libros y una tercera caja con 2 libros más, ¿cuántos libros tengo en total?**

**4.- Hay 13 tortillas en un plato. Una familia come 7 de esas tortillas. ¿Cuántas tortillas quedan?**